

# Unit 7 review

Grade:

Subject: **Math**

Date:

1 Le mode =

4 5 3 4 5 9 4

## 2 La médiane

10 18 3 8 12

### 3 La moyenne

10 18 3 8 12

4 L'étendue =

10 18 3 8 12

5 Quel numérou manque

A 5

B 11

C 6

D 3

moyenne = 6

3 9 6  1

6 la médiane =

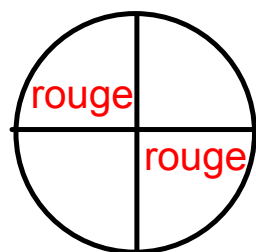
6 7 2 9 8 4

7 La probabilité d'obtenir rouge est?

A  $\frac{3}{4}$

B  $\frac{1}{4}$

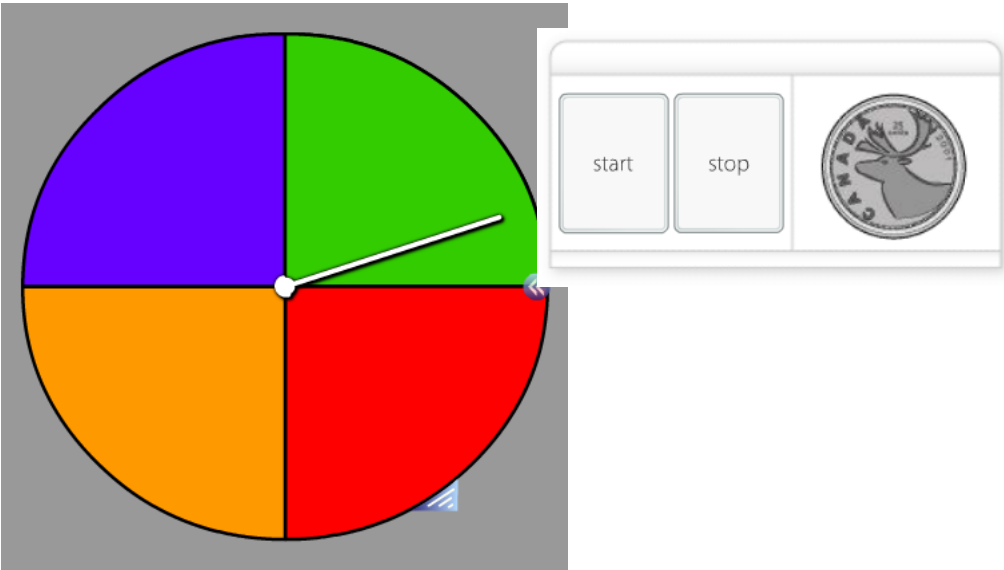
C  $\frac{1}{2}$





8 Combien de résultats possibles y a-t-il?

- A 2
- B 4
- C 8



9 Un sac contient 5 cubes rouge, 6 cubes bleus, et 4 cubes jaunes. Quelle est la probabilité de choisir un cube bleu du sac?

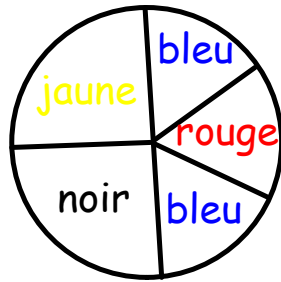
A  $1/3$

B  $6/15$

C  $8/15$

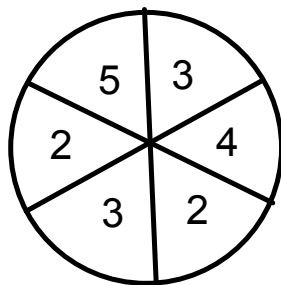
10 Quelle est la probabilité d'avoir le bleu en tournant le tourniquet ci-dessous?

- A  $1/3$
- B  $1/6$
- C  $1/6$
- D  $1/2$



11 P (3 ou un nombre pair)

- A  $1/2$
- B  $3/6$
- C  $5/6$
- D  $1/3$



12 P( face et un nombres pair)

A  $3/8$

B  $1/4$

C  $6/8$

D  $3/4$

