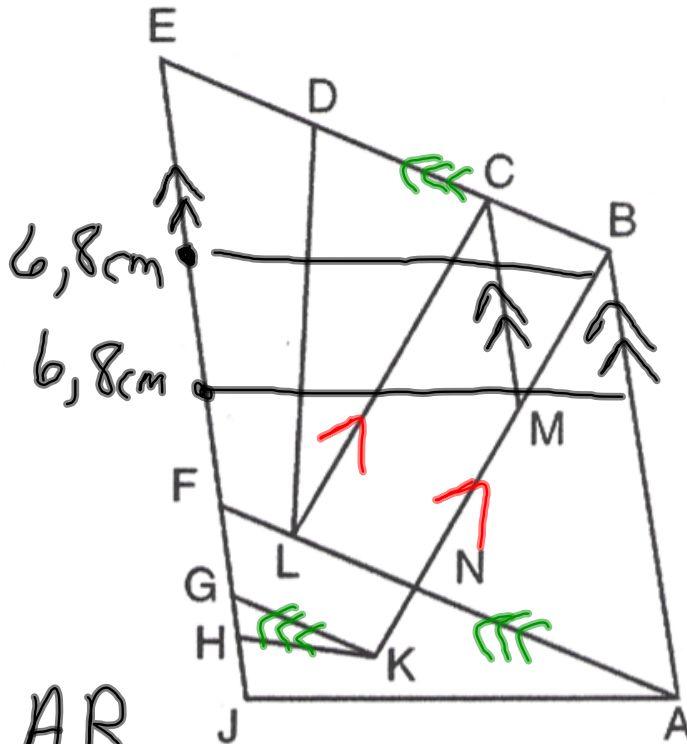


Feuille reproductible
8.15

Schéma pour la question 6 de la rubrique **À ton tour**
de la leçon 8.1



FA, EB GK

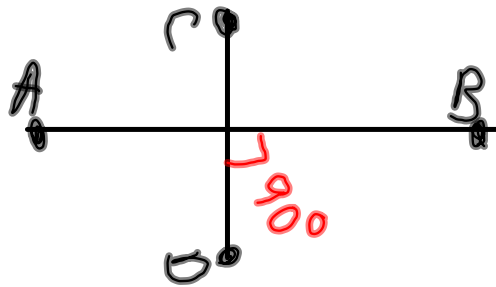
JE AB
6,8cm

LC, BK

JE AB et MC

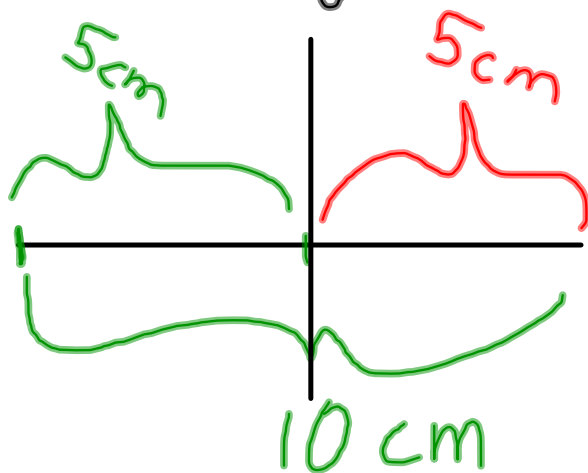
Deux segments de droites
sont **perpendiculaires** s'il
se coupent à angle droit.

angle droit = 90°



La médiatrice →

La droite qui est perpendiculaire à un segment de droite et qui se divise ce segment de droite en deux parties égales.



P. 305 Q1

P. 309 Q3