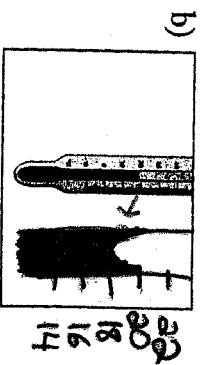



Nom: _____

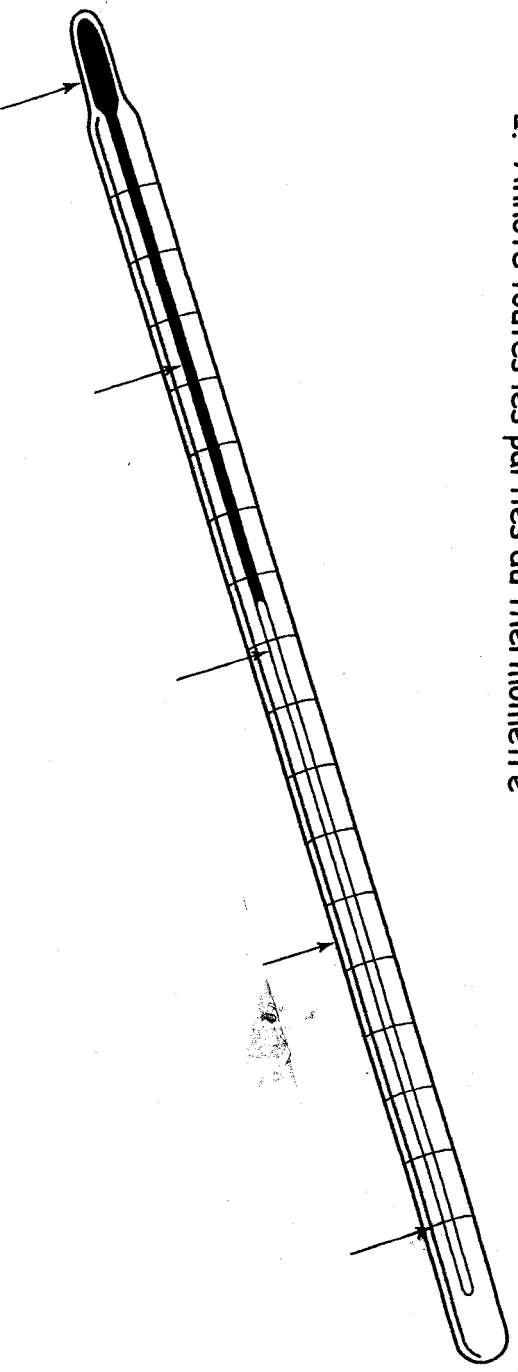
Class _____

La température et les thermomètres

1. Quelle est la température indiquée par chacun des thermomètres



2. Annote toutes les parties du thermomètre



3. Quel liquide se trouve à l'intérieur du thermomètre?

4. Quel est la température normale du corps humain?
5. La température de l'eau glacée?
6. La température de l'eau bouillante?
7. Nomme les deux échelles de température actuellement utilisées.
8. Quelle échelle est utilisée pour les mesures scientifiques, en particulier celles qui concernent le gaz ou les températures très froides?
9. Décris l'effet des changements de température sur le liquide à l'intérieur d'un thermomètre.
10. Que représente le «zéro absolu»??
11. Quelle est la température du «zéro absolu»??